



1 Dorýsujte geometrické útvary.


pětúhelník



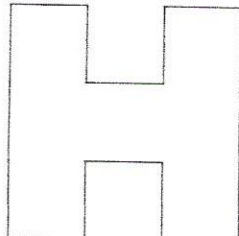
čtyřúhelník



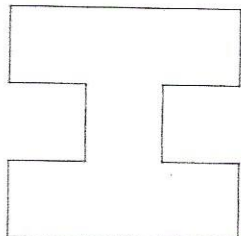
trojúhelník



2 Vypočítejte obsahy a obvody mnohoúhelníků.

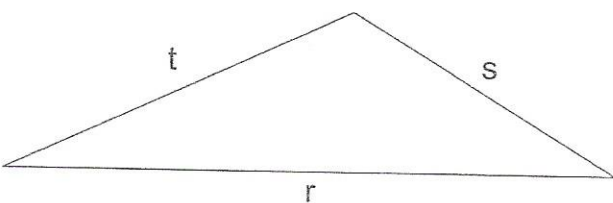


o = \_\_\_\_\_ cm  
obsah = \_\_\_\_\_ čtverců



o = \_\_\_\_\_ cm  
obsah = \_\_\_\_\_ čtverců

3 Podle popisu stran trojúhelníku označte vrcholy trojúhelníku **RST**. Změřte a запиšte délky jeho stran a vypočítejte jeho obvod.



|TR| = \_\_\_\_\_ cm  
|RS| = \_\_\_\_\_ cm  
|ST| = \_\_\_\_\_ cm

o = \_\_\_\_\_

4 Hanka bydlí v panelovém domě. Půjde si hrát se sestrou na hřiště, potom půjdou za babičkou do rodinného domku a nakonec se vrátí domů. Vypočítejte, kolik metrů ujdou.

výpočet: \_\_\_\_\_

odpověď: \_\_\_\_\_

