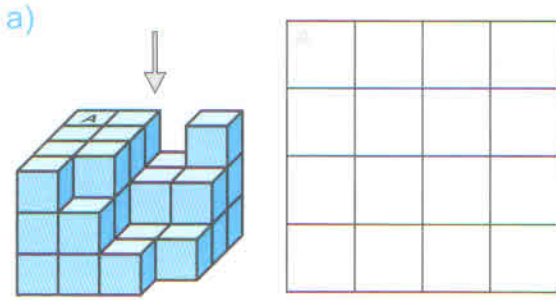
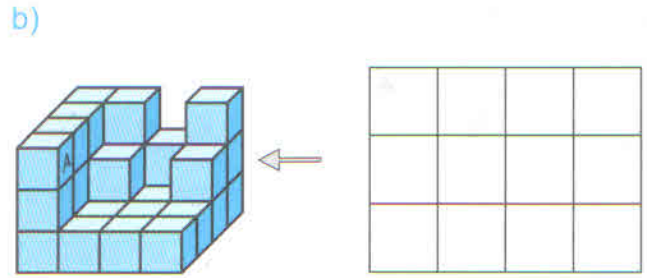


1 Do tabulky doplňte počty kostek v daném směru a zapište jejich celkový počet.

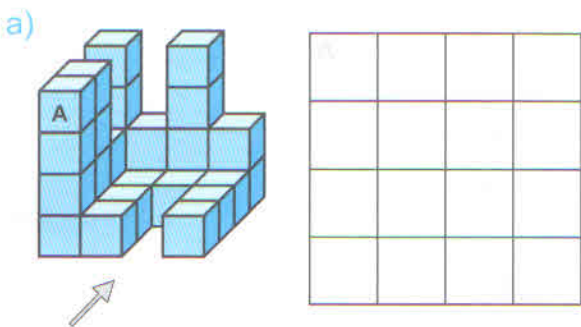


Na stavbu bylo použito _____ kostek.

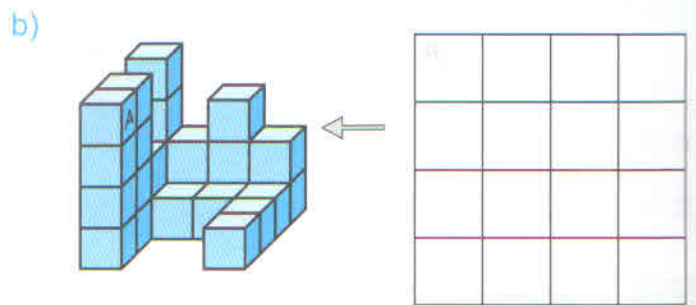


Na stavbu bylo použito _____ kostek.

2 Do tabulky doplňte počty kostek v daném směru a zapište jejich celkový počet.

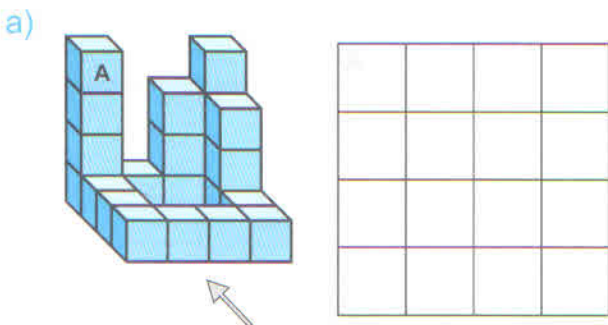


Na stavbu bylo použito _____ kostek.

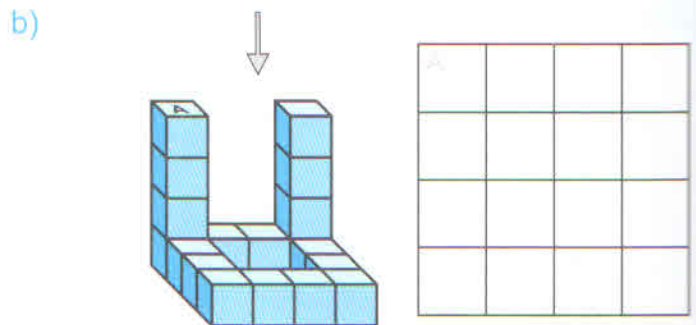


Na stavbu bylo použito _____ kostek.

3 Do tabulky doplňte počty kostek v daném směru a zapište jejich celkový počet.



Na stavbu bylo použito _____ kostek.



Na stavbu bylo použito _____ kostek.

4 Rozhodněte, která z kostek mohla vzniknout složením ze čtvercové sítě. Správnou možnost označte křížkem.

